

SOSYAL BİLGİLER

Konu Testi

SOSYAL BİLGİLER

5

ISLEYEN
ZEKA

OKULA
yardımcı
ÇEK
KOPAR KONU TESTİ

1.

	Rolü	Rollerinden Doğan Hakları
I	?	Sınıfta düşüncelerini özgürce açıklayabilmek
II	?	Oyun oynamak
III	?	Sınıflar arası turnuvalara katılabilmek

Yukarıda verilen tabloda “?” ile gösterilen yerlere sırasıyla hangi roller getirilmelidir?

	I	II	III
A)	Öğrenci	Çocuk	Takım oyuncusu
B)	Çocuk	Öğrenci	Takım oyuncusu
C)	Takım oyuncusu	Öğrenci	Çocuk
D)	Vatandaş	Kardeş	Takım oyuncusu

2. Çevremizdeki bir olay yaşamın birçok alanını etkiler. Hiçbir zaman bir olayın oluş ve sonucu tek taraflı değildir. Her olayın birden fazla nedeni ve sonucu bulunmaktadır. Bu duruma olayların çok boyutluluğu denir. Meydana gelen olaylar, oluş zamanı, kişilerin farklı olması gibi durumlardan dolayı her zaman aynı sonucu oluşturmaz.

Verilen bilgilere bakılarak aşağıdakilerden hangisine ulaşılamaz?

- A) Meydana gelen bir olay, yaşantı üzerinde etkili olmaktadır.
 B) Aynı olay, farklı zamanlarda farklı sonuçlar ortaya koyabilir.
 C) Meydana gelen bir olay, insanları sürekli aynı şekilde etkiler.
 D) Olayların birden fazla neden ve sonuçları olabilir.

3. Bir olayın birden çok sebebi, birden çok da sonucu olabilir. Bir olaydan, insanlar farklı şekillerde etkilenebilir.

Buna göre bir olaydan insanların farklı şekillerde etkilenmeleri olayın daha çok hangi özelliğini gösterir?

- A) Olayların çok boyutlu olduğunu
 B) Olayların başlama zamanlarının aynı olmadığını
 C) Olayların bitiş zamanlarının aynı olmadığını
 D) Olayların farklı yerlerde meydana geldiğini

4. Bir olayın birden fazla sebebi ve sonucu olmasına ---- denir.

Verilen bu cümledeki boşluğa aşağıdakilerden hangisi yazılmalıdır?

- A) kavram
 B) görüş
 C) çok boyutluluk
 D) olgu

5. Üç gündür alınmayan çöp nedeniyle sokağa bile çıkamaz hâle gelen mahalle sakinleri bu durumu belediyeye bildirdiler. Belediye aynı gün sorunu çözdü.

Mahalledeki çöplerin alınmaması üzerine vatandaşların bu davranışı aşağıdaki kavramlardan hangisi ile ilgilidir?

- A) Empati
 B) Hak
 C) Rol
 D) Vicdan

6. Görüşleri, amaçları ve çıkarları bir olan kişilerin bir araya gelerek oluşturduğu bütüne ---- denir.

Bu tanımda “?” ile gösterilen boşluğa aşağıdakilerden hangisi getirilmelidir?

- A) grup
 B) rol
 C) hak
 D) sorumluluk

1

7.



“Çocuklar, arkadaşımız Onur, biraz kırıncı ve bencil. Ama bu, onun kötü niyetli olduğunu göstermez. Aslında özünde çok iyi niyetli, temiz bir kardeşimiz. Ödevlerini yapmadığı ve düşük not aldığı için biraz hırçınlaşmış durumda. Onu anlamaya çalışmalı ve kendimizi onun yerine koymalıyız.”

Verilen duruma göre öğretmenin çocuklardan yapmasını istediği aşağıdakilerden hangisidir?

- A) Empati kurmak
- B) Ben merkezli davranmak
- C) Sen dili kullanmak
- D) Çok boyutluluğu önemsememek

8. Bir yaya karşıdan karşıya geçerken arabanın çarpması sonucu hafif şekilde yaralanmıştır. Kazanın oluşmasında yayanın dikkatsiz bir şekilde karşıdan karşıya geçmesi ya da arabanın hızlı geliyor olması gibi birçok sebep etkili olmuş olabilir.

Bu bilgiye bakılarak aşağıdakilerden hangisi söylenebilir?

- A) Trafik kazalarıyla ilgili devlet önlemler almalıdır.
- B) Kazalar gerçekleştiğinde her zaman arabalar suçludur.
- C) Kazanın oluşmasında yayanın hiçbir suçu yoktur.
- D) Meydana gelen olayda, birden çok sebep etkili olduğu için olay çok boyutlu bir özellik gösterir.

9. Aşağıda verilenlerden hangisi sorumluluk ile ilgili bir örnek değildir?

- A) Oyun oynamak ve eğlenmek
- B) Ödevlerini tam ve zamanında yapmak
- C) Derse zamanında gelmek
- D) Okul eşyalarına zarar vermeden kullanmak

10. Eğitim, güvenlik, sağlık ve ulaşım gibi ihtiyaçlarımızı tek başımıza sağlamamız zordur. Bu nedenle bu gibi temel ihtiyaçlarımızı karşılamak amacıyla çeşitli kurumlar oluşturulmuştur. Toplumsal yarar sağlamak veya bir ürün üretmek amacıyla oluşturulmuş yapılara kurum adı verilir.

Buna göre aşağıdakilerden hangisi kuruma örnek gösterilemez?

- A) Okul
- B) Hastane
- C) Karakol
- D) Fırın

11. Rol, bir bireyin grup içerisinde üstlendiği görevlerdir. Sorumluluk ise üstlendiği rolün gereklerini yerine getirmektir.

Buna göre aşağıda verilen rol ve sorumluluk eşleştirmelerinden hangisi yanlıştır?

- A) Öğretmen → ders anlatmak
- B) Öğrenci → ödevlerini yapmak
- C) Doktor → hastalara bakmak
- D) Gazeteci → spor yapmak

12. Bir grup etkinliğinde yer alan bireylerin üstlendikleri görevlere rol denir. Bir başka deyişle üyesi olduğumuz grupta üstlenmemiz gereken görevlerdir. Her grubun rolleri arasında farklılıklar olabilir. Ancak üyesi olduğumuz grupta üzerimize düşenleri yapmalı, rollerimizi yerine getirmeliyiz.

Verilen bilgilere göre,

- I. Bulunulan gruba göre roller değişmektedir.
- II. Rollerin gerektirdiği görevler yerine getirilmelidir.
- III. Gruplarda yer alan bireyler üniversite eğitimi almak zorundadır.

yargılarından hangilerine ulaşılabilir?

- A) Yalnız I.
- B) I ve II.
- C) II ve III.
- D) I, II ve III.

1. Çocuk Hizmetleri Genel Müdürlüğü her ilde İl Çocuk Hakları Komiteleri oluşturmuştur. Komiteler 2000 yılından itibaren çalışmalarını sürdürmektedir. Katılımda zorlama yoktur. Herkes kendi isteğiyle katılmaktadır. İl Çocuk Hakları Komiteleri, ülke çapında çocuk katılımını sağlayan bir örgütlenme oluşturmuştur.

Bu bilgilere bakılarak Çocuk Hakları Komiteleriyle ilgili aşağıdakilerden hangisi söylenemez?

- A) Gönüllülük esasına göre oluşturulmuştur.
- B) Ülke genelinde organize olmuştur.
- C) Çocuklara faydalı olunmaya çalışılmıştır.
- D) Devlet destek vermemiştir.

2. Ülkemizde çocukların haklarını kullanmasına olanak sağlanmaktadır. Hemen hemen her kentte çocuk meclisleri bulunmaktadır. Çocuklar, bu meclislere katılarak duygu ve düşüncelerini özgürce ifade etmektedir.

Verilen bilgilere göre aşağıdakilerden hangisine ulaşılabilir?

- A) Ülkemizde çocuk haklarına önem verilmektedir.
- B) Çocukların düşüncelerini açıklamaları engellenmektedir.
- C) Çocuk meclisleri ülke yönetimine katılmaktadır.
- D) Ülkemizde çocuk hakları engellenmektedir.

3. I. Evini temiz tutmak
II. Odasını düzenli tutmak
III. Eve zamanında gelmek
IV. Tüm pazar alışverişlerini yapmak

Verilenlerden hangileri 5. sınıf öğrencisi Elif'in ailesine karşı sorumlulukları arasında yer alır?

- A) I ve II.
- B) II ve III.
- C) I, II ve III.
- D) I, III ve IV.

4. Aralarında konuşan öğrencilerden hangisi sorumluluklarının dışında olan bir durumdan bahsetmiştir?

A)



Cenk

Bir öğrenci olarak başarılı olabilmek için derslerime düzenli olarak çalışırım.

B)



İlayda

Aile içinde; fırından ekmek almak, odamı düzenli tutmak ve yatağımı düzeltmek gibi sorumluluklarım vardır.

C)



Şükran

Mahallemizde oyun oynamamız için gerekli oyun sahalarının ve araçlarının olması gerekir.

D)



Tarık

Okul kurallarına uymak en önemli sorumluluklarımızdandır.

5.

Çalışma ve Sosyal Güvenlik Bakanlığı, 2018 yılını çocuk işçiliğiyle mücadele yılı olarak ilan etti. Hazırlanan eylem planı, çocuk işçiliğine karşı iş yerlerinin ve tarlaların denetlenmesinden okuldaki devamsızlık takibine kadar uzanıyor.

Yukarıda verilen metne bakılarak,

- I. Çocuk haklarının ihlaline karşı mücadele edilmektedir.
- II. Devlet çocuk işçiliğine karşı organize bir takip planlamaktadır.
- III. Ülkemiz çocuk işçiliğinde dünyada birincidir.

yargılarından hangilerine ulaşılabilir?

- A) Yalnız I.
- B) I ve II.
- C) II ve III.
- D) I, II ve III.

2

6.



Okulda öğretmenim, evde ise anne ve eşim.

Aysun Öğretmen hangi konuyu örneklendirmiş olabilir?

- A) Rol B) Hak
C) Sorumluluk D) Grup

7. Sosyal bilgiler dersinin sağladığı bazı faydalar şunlardır:

- Vatandaşlık görevi ve sorumluluklarının öğrenilmesini sağlar.
- Türkiye Cumhuriyeti'nin dayandığı temel ilkeleri öğretir.
- Türk tarihinin öğretilmesini sağlar.

Verilen bilgilere bakılarak sosyal bilgiler dersinin faydalarıyla ilgili,

- I. Geçmişimizin öğrenilmesine yardımcı olur.
II. Bireyin toplumda üstlendiği sorumlulukları öğretir.
III. Dünyadaki yönetim değişikliklerinin öğrenilmesi sağlar.

yargılarından hangilerine ulaşılabilir?

- A) Yalnız I. B) I ve II.
C) II ve III. D) I, II ve III.

8.



Şimdi öğrencilerim için sınav kâğıdı hazırlayacağım.

Nurhan Hanım ifadesinde hangi rolü ile ilgili sorumluluğundan bahsetmiştir?

- A) Eş B) Öğretmen
C) Doktor D) Anne

9. Aşağıdakilerden hangisi sınıf başkanlığı yapan bir öğrencinin sorumluluklarından biridir?

- A) Arkadaşlarını kötü sözlerle uyarmak
B) Sınıfı kendi hâline bırakmak
C) Arkadaşlarına ödev vermek
D) Sınıfta düzeni sağlamak

10.

Eğitim almak

Okul eşyalarını korumak

Ödevlerimizi zamanında yapmak

Sağlık hizmeti almak

Yukarıda verilenlerden kaç tanesi hak kapsamında değerlendirilir?

- A) 1 B) 2 C) 3 D) 4

11. Aşağıdakilerden hangisi ortaokul öğrencisi Selim'in sahip olduğu haklardan biridir?

- A) Okul kütüphanesini kullanabilmek
B) Sınıf kurallarına uymak
C) Zamanında uyumak
D) Market alışverişlerinde ailesine yardım etmek

12. Hak; bir kişiye içinde yaşadığı toplumca tanınmış olan yetkilidir. Sorumluluk ise bireyin kendi davranışlarının sonuçlarını üstlenmesidir.

Buna göre aşağıdakilerden hangisinin bir hak olduğu söylenebilir?

- A) Ödevlerimizi yapmak
B) Ailemize yardımcı olmak
C) Oyun oynamak
D) Odamızı toplamak

1. ❖ Tarihte bilinen ilk yazılı anlaşma olan Kadeş Antlaşması'nı yaptılar.
- ❖ Kraliçelerine Tavananna denir.
- ❖ Başkentleri Hattuşaş'dır.
- ❖ Pankuş adı verilen meclisleri vardır.

Bu bilgiler aşağıdaki medeniyetlerden hangisine aittir?

- A) Hititler
B) Urartular
C) İyonyalılar
D) Frigler

2. ❖ Tarımla ilgili sert kanunlar yaptılar.
- ❖ Başkentleri Gordion'dur.
- ❖ Krallarına Midas unvanı verdiler.
- ❖ Tapates adı verilen kilimleri vardır.

Verilen bilgiler aşağıdaki medeniyetlerden hangisine aittir?

- A) Sümerler
B) Urartular
C) Hititler
D) Frigler

3. Urartular, ölen kişilerin mezarlarını bazı kişisel eşyalarıyla birlikte gömmüşlerdir.

Bu durum Urartularla ilgili aşağıdakilerden hangisinin göstergesidir?

- A) Ölümden sonraki yaşama inandıklarının
B) Madencilikte geliştiklerinin
C) Kayaların içerisine mezarlar yaptıklarının
D) Ticaretle uğraştıklarının

4. Bir toplumun tarihsel süreç içerisinde ürettiği ve kuşaktan kuşağa aktardığı tüm maddi ve manevi değerler bütününe ---- denir.

Verilen tanım cümlesinde boş bırakılan yere aşağıdakilerden hangisi getirilmelidir?

- A) kültür
B) örf
C) âdet
D) gelenek

5. Çok uzun zaman önce insanlar Fırat ve Dicle nehirleri arasına yani Mezopotamya'ya gelip yerleşmişler. Tarım yapmaya başlamışlar ve hayvanları evcilleştirerek, hayvancılıkla uğraşmışlardır. Önce köyler inşa etmişler. Sonra köyler büyümüş kralların yönettiği kentlere dönüşmüştür.

Verilen bilgilere bakılarak,

- I. İnsanlar yerleşim yeri olarak su kaynaklarının etrafını tercih etmişlerdir.
- II. İnsanlar Mezopotamya'da farklı ekonomik faaliyetlerde bulunmuşlardır.
- III. Mezopotamya'da nüfusun artmasıyla yerleşim türleri değişmiştir.

yargılarından hangilerine ulaşılabilir?

- A) Yalnız I.
B) I ve II.
C) II ve III.
D) I, II ve III.

6. Geçmişte yaşayan insanların çeşitli ihtiyaçlarını karşılamak amacıyla yaptıkları eserlerden günümüze ulaşanlara tarihî eser diyoruz.

Aşağıdakilerden hangisi tarihî eserler arasında gösterilemez?

- A) Kervansaray
B) Tapınak
C) Şelale
D) Kale

7. Frig kralı, Gordios halkı ile gelip Ankara'ya yerleşmiş. Kurduğu şehre de Gordion adı verilmiş. Zamanla Frigler gelişmiş, büyük bir devlet olmuş. Tarım, hayvancılık yapmış; madencilik, dokumacılık, mobilyacılık gibi alanlarda ustalaşmışlar.

Verilen bilgilere bakılarak Friglerle ilgili,

- I. Zaman içerisinde gelişme göstermişlerdir.
- II. Farklı ekonomik faaliyetlerle uğraşmışlardır.
- III. Deniz ticaretine önem vermişlerdir.

yargılarından hangilerine ulaşılabilir?

- A) Yalnız I.
B) I ve II.
C) II ve III.
D) I, II ve III.

3

8. Sümerler ziggurat denilen büyük tapınaklar inşa etmişlerdir. zigguratlar hem okul hem de gözlemevi olarak ayrıca tarım ürünlerinin saklandığı depolar olarak da kullanılmıştır.

Buna göre Sümerler zigguratları;

- I. eğitim,
II. din,
III. bilimsel çalışmalar

amaçlarından hangileri için kullanmışlardır?

- A) Yalnız I. B) I ve II.
C) II ve III. D) I, II ve III.

9. Asurlu tüccarlar, ihtiyaç duydukları malları almak için eşeklerle Anadolu'nun içlerine kadar yolculuk ederlerdi. Mezopotamya'da pek bulunmayan kereste ve değerli madenlerden alırlardı. Ayrıca Asurlu tüccarlar, Anadolu'yu yazılıla tanıştırmıştır.

Verilen bilgilere bakılarak aşağıdakilerden hangisine ulaşamaz?

- A) Medeniyetler arasında etkileşim yaşanmıştır.
B) Yazıyı Mezopotamya'ya Anadolu uygarlıkları götürmüştür.
C) Mezopotamya'nın ihtiyaçları Anadolu'dan götürülmüştür.
D) Anadolu ve Mezopotamya arasında ticaret gelişmiştir.

10. • Van Gölü ve çevresinde devlet kurmuşlardır.
• Maden işletmeciliğinde ileri gitmişlerdir.
• Kaleler ve su kanalları yapmışlardır.

Yukarıda verilen bilgiler hangi medeniyete aittir?

- A) Sümerler B) Frigler
C) Urartular D) Asurlar

11. Anadolu tarih öncesi devirlerden itibaren insanların gelip yerleştikleri bir yer olmuştur. Anadolu iklimiyle, yeryüzü şekilleriyle; tarım, hayvancılık gibi ekonomik faaliyetlere elverişlidir. Asya ve Avrupa kıtaları arasında yer aldığından çok fazla göç almıştır.

Verilen bilgilerde Anadolu'nun göç almasının asıl nedeni aşağıdakilerden hangisine dayandırılmıştır?

- A) Hayvancılığın gelişmiş olmasına
B) Tarım alanlarının geniş olmasına
C) Jeopolitik konumunun iyi olmasına
D) Yer şekillerinin sade olmasına

12.



Çocuklar, alışverişlerde para kullanarak ticarete takas usulüne son veren medeniyet hangisidir?

Ayhan Öğretmen'in sorusuna aşağıdaki öğrencilerden hangisi doğru cevap vermiştir?

- A) Hititler B) Lidyalılar
C) Asurlar D) Sümerler

İşleyen Zeka Yayınları

13. Aşağıda verilenlerden hangisi Anadolu'da kurulmuş medeniyetlerden biri değildir?

- A) Hititler B) Sümerler
C) Urartular D) İonyalılar

1. Ülkemiz özellikle yaz aylarında binlerce turistin geldiği ziyaret ettiği bir yer idi.

Bu durumun nedeni aşağıdakilerden hangisidir?

- A) Ülkemizin köprü konumunda bulunması
B) Ülke nüfusunun 80 milyondan fazla olması
C) Ülkemizde çok sayıda doğal ve tarihi güzelliğin bulunması
D) Sahil kentlerinde otel sayısının fazla olması

2. Ülkemizde çok sayıda tarihi eser bulunmaktadır. Bu eserlerin korunması gerekmektedir. Yapılara bilerek ya da bilmeden zarar verenlerin uyarılması, tarihî mirasımıza sahip çıkmak bir vatandaşlık görevi sayılmaktadır.

Verilen metinde aşağıdakilerden hangisinin önemi vurgulanmıştır?

- A) Milli egemenliğin sağlanmasına
B) Toplumsal birlikteliğin sağlanmasına
C) Hak ve sorumlulukların bilinmesine
D) Kültürel mirasa duyarlı olmaya

3. Doğada kendiliğinden oluşmuş güzelliklere doğal varlık denilir.

Buna göre aşağıdakilerden hangisi bir doğal varlıktır?

- A) Dolmabahçe Sarayı
B) Manyas Kuş Cenneti
C) İshak Paşa Sarayı
D) Sümela Manastırı

- 4.



Bu sene Türkiye'nin tarihi ve doğal güzelliklerini görmeye karar verdim.

- I. İlk olarak Nemrut Heykellerini görmeye gittim, güneşin doğuşunu izledim.
II. Daha sonra Cennet ve Cehennem mağarasına gittim, bazı bölümleri ürkütücü bazı bölümleri çok güzeldi.
III. Sonra yolumuz İstanbul'a düştü ve Eyfel Kulesi'ne çıktım. İstanbul'u buradan izlemek çok keyifliydi.
IV. Ardından Çanakkale'ye gidip Truva Atı'nın tarihi geçmişi öğrendim.

Yukarıda numaralandırılarak verilen cümlelerin hangisinde bilgi yanlış vardır?

- A) I. B) II. C) III. D) IV.

5. Ailesiyle Bolu'ya giden İsa, buradaki doğal güzellikleri gezecektir.

Buna göre İsa'nın gezeceği yerler aşağıdakilerden hangisidir?

- A) Abant Gölü – Yedigöller
B) Göller Yöresi – Kapuzbaşı Şelalesi
C) Bolu kalesi – Erciyes Dağı
D) Kapadokya – Erciyes Dağı

- 6.

Geçmişten kalan ve tarihi değer taşıyan eşyalara tarihi nesne denir.

Buna göre aşağıdakilerden hangisi tarihi nesne değildir?

- A) Kale B) Kalkan
C) Barınak D) Tabak

4

7. Anadolu'nun çok eski çağlardan beri yerleşim yeri olarak tercih edilmesinin sebepleri arasında aşağıdakilerden hangisi yer almaz?

- A) İklimin ılıman olması
B) Su kaynaklarının bol olması
C) Yer altı ve yer üstü kaynaklarının zengin olması
D) Sanayisinin gelişmiş olması

8. Emel, sosyal bilgiler dersinde ülkemizdeki tarihî eserlerle ilgili ödev hazırlayacaktır.

Buna göre Emel, aşağıdakilerden hangisini ödevinde gösterirse yanlış yapmış olur?

- A) Sultanahmet Camii - İstanbul
B) Çatalhöyük - Konya
C) Tuz Mağarası - Çankırı
D) Sümela Manastırı - Trabzon

9. Aşağıdaki eserlerden hangisi yapılış amacı yönünden diğerlerinden farklıdır?



Karatay Medresesi



Akdamar Kilisesi



Fatih Camii



Divriği Ulu Camii

10. Aşağıda ülkemizdeki bazı tarihi yerler ve bulunduğu şehirler eşleştirilmiştir.

I.	Selimiye Camii	→	İstanbul
II.	Süleymaniye Camisi	→	Edirne
III.	Dolmabahçe Sarayı	→	İstanbul
IV.	Ani Harabeleri	→	Kars

Yukarıdaki eşleştirmelerden hangilerinin yanlış olduğunu söyleyebiliriz?

- A) I ve II. B) II ve III.
C) I ve III. D) I ve IV.

11. Atatürk'ün ebedi istirahatgâhı olan Anıtkabir hangi şehrimizdedir?

- A) Ankara B) İstanbul
C) İzmir D) Erzurum

12. Aşağıdakilerden hangisi tarihî yerlerimize örnek oluşturmaz?



1.



- I. Orta Asya kültüründen gelir.
- II. Baharın gelişini temsil eder.
- III. Her yıl sonbaharda kutlanır.
- IV. Toprağın çiçeklerle yeşermesini ve doğanın yeniden doğuşunu temsil eder.

Yukarıda verilen özelliklerden hangileri "Nevruz Bayramı" ile ilgili değildir?

- A) Yalnız I.
- B) Yalnız III.
- C) I ve III.
- D) II ve IV.

2.

- Halk oyunlarımız
- Türkülerimiz
- Manilerimiz
- Ağıtlarımız
- Fıkralarımız

Yukarıda verilenlerden kaç tanesi sözlü kültürümüze aittir?

- A) 2
- B) 3
- C) 4
- D) 5

3.

- Yemeklerimiz
- Halk oyunlarımız
- Yöresel kıyafetlerimiz
- Türkülerimiz

Yukarıda kültürel öğelerimizden kaç tanesi günümüzde de eski özelliklerinden birçoğunu taşıyor olabilir?

- A) 1
- B) 2
- C) 3
- D) 4

4. Aşağıda verilen atasözlerinden hangisi insanların bir arada yaşamasının önemini vurgular?

- A) Sakla samanı gelir zamanı.
- B) Bal tutan parmağını yalar.
- C) Komşu komşunun külüne muhtaçtır.
- D) Ak akçe kara gün içindir.

5. Millî ve dinî bayramların toplumda;

- I. dayanışma,
- II. yardımlaşma,
- III. ayırıştırma,
- IV. birleştirme

duygularından hangilerini olumlu etkilediği söylenebilir?

- A) I ve II.
- B) II ve III.
- C) I, II ve IV.
- D) I, II, III ve IV.

6. Toplumda tüm insanların yaşamlarına yön veren ve ortak duygularını yansıtan kültürel unsurlar bulunmaktadır.

Aşağıdakilerden hangisi bu kültürel değerlerimize örnek olarak gösterilemez?



Kına Gecesi



Kurban Bayramı



Yılbaşı Kutlaması



Asker Uğurlaması

5

7. 1. İshak Paşa Sarayı
2. Çifte Minareli Medrese
3. Abant Gölü
4. Pamukkale Travertenleri

Yukarıda verilen maddelerden hangileri tarihi eser niteliğindedir?

- A) 1 ve 2. B) 2 ve 3.
C) 2 ve 4. D) 3 ve 4.

8.



Mardin Evleri



Karadeniz Evleri

Ülkemizin bazı bölgelerinde ev yapımında taş malzemeler kullanılırken bazı bölgelerinde ahşap malzemeler kullanılmaktadır.

Ev yapımı konusunda bu kültürel farklılığın oluşmasında aşağıdakilerden hangisinin daha etkili olduğu savunulabilir?

- A) Ticari faaliyetler B) Alışkanlıklar
C) Ekonomik durum D) Coğrafi şartlar

9. Kültürün toplumsal yaşamda birçok işlevi vardır. Bunlardan birisi toplumsal kişiliğin oluşması ve "sosyalleşmenin" sağlanmasıdır.

Aşağıdakilerden hangisi kültürün toplumsal işlevseleri arasında sayılamaz?

- A) Toplumı diğer toplumlardan üstün kılar.
B) Topluma kimlik kazandırır, toplumu diğer toplumlardan farklı kılar.
C) Toplumsal dayanışma ve birlik duygusu, yani "biz bilinci" verir.
D) bireyin davranışlarını yönlendirerek toplumsal düzenini sağlar.

10. Aşağıda dünyada bazı doğal güzellikler ve kıtalar gösterilmiştir.

I. Yellowstone Millî Parkı	→	Güney Amerika
II. Serangeti Millî Parkı	→	Afrika
III. Yosemite Millî Parkı	→	Kuzey Amerika
IV. Yozgat Çamlığı Millî Parkı	→	Asya

Yukarıdaki bilgilere göre hangi eşleştirme yanlıştır?

- A) Yalnız I. B) Yalnız II.
C) I ve II. D) II ve III.

11. Kültürel öğelerimizden biri de değerlerimizdir. Düğünler geçmişten günümüze yüzyıllar boyunca süregelen geleneklerimizin yaşatıldığı değerlerimizdir. Düğünlerde uygulanan gelenekler, verilen yemekler, söylenen türküler bölgeden bölgeye farklılık gösterebilmektedir.

Verilen bilgilere göre,

- I. Gelenekler bölgesel olarak farklılık gösterebilir.
II. Düğünler günümüzde geleneksel yöntemlerle uygulanmaktadır.
III. Kültürel öğelerin geçmişle bağlantısı yoktur.

yargılarından hangilerine ulaşılabilir?

- A) Yalnız I. B) I ve II.
C) II ve III. D) I, II ve III.

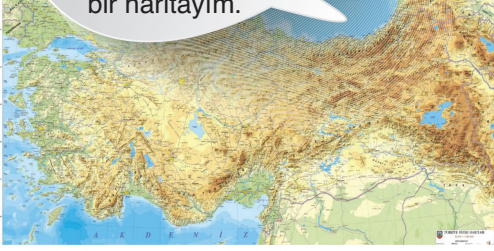
12. Yöresel oyunlar, bölgeler arasında farklılık gösterebilmektedir.

Buna göre Karadeniz Bölgesi'nde aşağıdaki oyun türlerinden hangisi daha yaygındır?

- A) Zeybek B) Halay
C) Horon D) Bar

1.

Ben bir yerin dağlarını, platolarını, ovalarını, vadilerini, akarsularını, göllerini gösteren fiziki bir haritam.



Türkiye Fiziki Haritası

Fiziki haritalar ile ilgili aşağıdaki ifadelerden hangisi yanlıştır?

- A) Yeşil renkler haritada ormanları gösterir.
- B) Yükseklik arttıkça koyu kahverengi renkler artar.
- C) Sarı, deniz seviyesinin üstünde geniş düzlükleri gösterir.
- D) Mavi, denizleri gösterir.

2. Etrafı sularla çevrili kara parçasına ada denir. Ada, dağların denize dik olduğu yerlerde daha fazla görülmektedir.

Buna göre aşağıdaki denizlerimizden hangisinde ada oluşumlarına daha fazla rastlanılır?

- A) Karadeniz
- B) Akdeniz
- C) Ege Denizi
- D) Marmara Denizi

3. Yükselti basamaklarına göre yeryüzü şekillerinin dağılışını gösteren haritalara fiziki harita denir. Yer şekilleri fiziki haritalarda farklı renklerle gösterilmektedir.

Buna göre aşağıda verilen yeryüzü şekillerinden hangisinin fiziki haritada yeşil renk ile gösterildiği söylenebilir?

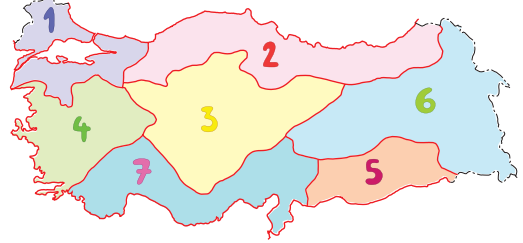
- A) Konya Ovası
- B) Çarşamba Ovası
- C) Haymana Platosu
- D) Yüksekova

4. Çevresine göre yüksekte kalan, akarsular tarafından derince parçalanmış geniş ve engebeli yüzey şekillerine plato denir. Platolar iklim özelliklerine göre tarım ve hayvancılık amacıyla kullanılmaktadır.

Buna göre aşağıdaki platolarımızdan hangisi tarımdan çok hayvancılık amacıyla kullanılmaktadır?

- A) Cihanbeyli Platosu
- B) Erzurum - Kars Platosu
- C) Obruk Platosu
- D) Şanlıurfa Platosu

5.



Harita üzerinde Türkiye'nin coğrafi bölgeleri numaralandırılarak gösterilmiştir.

Aşağıdaki seçeneklerin hangisinde sırasıyla İç Anadolu Bölgesi ve Ege Bölgesi doğru olarak yer almaktadır?

- A) 1 ve 4
- B) 3 ve 4
- C) 4 ve 5
- D) 3 ve 7

6. Haritalarda kullanılan özel işaretlerin ne anlama geldiğini gösteren bölüme lejant denir.

Buna göre Türkiye fiziki haritasının lejant bölümünde aşağıdakilerden hangisi yer almaz?

- A) Büyük şehirler
- B) Dağ zirveleri
- C) Nüfus yoğunlukları
- D) Doğal geçitler

6

7. I. Yeryüzünün, çevresine göre yüksek olan ve oldukça geniş bir alana yayılan bölümlerine ---- denir.
II. Denizin, karanın içine doğru sokulduğu büyük girintilere ---- denir.

Verilen boşluklara sırasıyla aşağıdakilerden hangileri getirilmelidir?

	I	II
A)	dağ	körfez
B)	tepe	burun
C)	dağ	vadi
D)	tepe	körfez

8. Ahmet, öğretmenin verdiği ödevi yaparken Türkiye Fiziki Haritası'nda bölgelerin farklı renklerle gösterildiğini görmüş ve bu durumu merak ederek annesine sormuştur.

Buna göre Ahmet'in annesi, aşağıdaki cevaplardan hangisini söylediğinde doğru cevabı vermiş olur?

- A) Haritada yükselti basamakları farklı renklerle gösterilmektedir.
B) Haritaya bakarlara görsellik olması için renklendirilmiştir.
C) Ekonomik faaliyetlere göre farklı renkler kullanılmıştır.
D) Nüfus miktarlarına göre farklı renklendirilmiştir.

9. Aşağıda verilen şehirlerden hangisi fiziki haritada diğerlerinden farklı bir renk ile gösterilir?

- A) İstanbul
B) İzmir
C) Ağrı
D) Adana

10.



Çocuklar, fiziki haritada mavi renk hangi yeryüzü şekilleri için kullanılır?

Yusuf Öğretmen'in sorusunu aşağıdaki öğrencilerinden hangisi yanlış cevaplamıştır?

A)



Akarsular

İrem

B)



Göller

Pelin

C)



Denizler

Savaş

D)



Platolar

Gökhan

11.



Verilen Türkiye fiziki haritasını inceleyen bir kişi;

- I. yer şekillerinin dağılışı,
II. yükselti ortalamaları,
III. nüfus yoğunluğu

durumlarından hangileriyle ilgili bilgi sahibi olur?

- A) Yalnız I.
B) I ve II.
C) II ve III.
D) I, II ve III.

1. Bir bölgenin ikliminin oluşmasında aşağıdakilerden hangisinin etkisi yoktur?

- A) Denize olan uzaklığı
B) Dağlarla çevrili olması
C) Gelen turist sayısı
D) Denizden yüksekliği

2. Geniş bölgelerde, uzun yıllar boyunca hava olaylarının gösterdiği ortalama duruma iklim denir.

Buna göre aşağıdakilerden hangisi iklimin tanımına uygun örnek oluşturmaz?

- A) Ankara'da kışlar soğuk geçmektedir.
B) Karadeniz Bölgesi her mevsim yağış alır.
C) Akdeniz'de yazlar sıcak geçer.
D) İzmir'de 15 Temmuz yağışlı geçti.

3. • Etki alanı en geniş olan iklimdir.
• Kışlar soğuk ve kar yağışlı geçer.
• Yazlar sıcak ve kuraktır.
• Güneşli gün sayısı fazladır.
• Bitki örtüsünü makiler oluşturur.

Yukarıda verilen özelliklerden kaç tanesi Akdeniz iklimine aittir?

- A) 2 B) 3 C) 4 D) 5

4. Ülkemizde kışın yoğun kar yağışının yaşanması bazı günlerde okulların tatil edilmesine neden olmaktadır.

Buna göre iklimin aşağıdaki alanlardan hangisini olumsuz etkilediği söylenebilir?

- A) Eğitim B) Sağlık
C) Ekonomi D) Kültür

5. 1 Bir bölgedeki yer şekilleri ve iklim o bölgedeki ekonomik faaliyetleri etkiler.

2 Güneydoğu Anadolu Bölgesi ülkemizin her mevsim yağış alan tek bölgesidir.

3 Marmara Bölgesi'nde ülkemizdeki üç iklim tipi de görülür.

4 İç Anadolu Bölgesi, etrafı yüksek dağlarla çevrili olduğu için deniz etkisine kapalıdır.

Yukarıda numaralanmış bilgilerden hangisi yanlıştır?

- A) 1. B) 2. C) 3. D) 4.



İklimin insan faaliyetleri üzerinde etkileri hangi numaralarda doğru olarak verilmiştir?

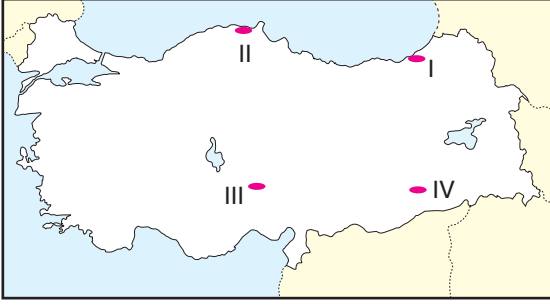
- A) 1 - 2 - 3 - 4 - 5 - 6 B) 1 - 2 - 3 - 4 - 6
C) 1 - 2 - 3 - 4 - 5 - 7 D) 1 - 2 - 4 - 5 - 6 - 7

7. Bir yerde görülen iklim insan faaliyetlerini olumlu ya da olumsuz olarak etkilemektedir.

Aşağıdakilerden hangisi iklimin insan faaliyetleri üzerine etkisine örnek gösterilemez?

- A) Farklı iklimlerde farklı malzemelerden evlerin yapılması
B) İnsanların kış mevsiminde kayak yapmaları
C) Akarsuların üzerinde barajların kurulması
D) Çayın sadece Doğu Karadeniz'de yetiştirilmesi

1. Yağışın fazla olduğu yerlerde, dik yamaçlardan aşağıya doğru toprağın kayması olayına "heyelan" denir.



Buna göre haritada gösterilen yerlerden hangilerinde heyelan olayına daha sık rastlanılır?

- A) I ve II. B) I ve IV.
C) II ve III. D) III ve IV.

2. Ülkemizde yaşanan depremlerle ilgili aşağıdakilerden hangisi söylenemez?

- A) Depreme karşı bilinçlenmelidir.
B) İnsanlar depremden zarar görmektedir.
C) Depremi engellemek mümkündür.
D) Ülkemizde deprem ara sıra kendini hissettirir.

3.

1	Fay hatlarının bulunduğu yerlere ev yapmamak
2	Zemini sağlam olmayan yerlere ev yapmamak
3	İnşaatları sağlam yapmak
4	Ağaçlara ve bitki örtüsüne zarar vermemek

Yukarıdaki tabloda doğal afetlere karşı alınabilecek bazı önlemler verilmiştir.

Buna göre yukarıda numaralanmış önlemlerden hangisi depreme karşı alınacak önlemlerden değildir?

- A) 1. B) 2. C) 3. D) 4.

4. Aşağıda ülkemizde en çok yaşanan doğal afetler ve görüldüğü yerler eşleşmelerinden hangisi yanlıştır?

- A) Çığ - Doğu Anadolu Bölgesi
B) Deprem - İç Anadolu Bölgesi
C) Orman yangını - Akdeniz Bölgesi
D) Sel - Karadeniz Bölgesi

5. Depremin insan yaşamı üzerindeki etkisini azaltmak için aşağıdakilerden hangisinin yapılmasına gerek yoktur?

- A) Konutlarda yalıtım malzemesi kullanılmalıdır.
B) Konutların içinde eşyalar sabitlenmelidir.
C) Konutlar fay hatları üzerine yapılmamalıdır.
D) Konutlar yumuşak zemine yapılmamalıdır.

6. Heyelanın toplum hayatına etkisini araştıran bir araştırmacı aşağıdaki sonuçlardan hangisine ulaşmış olamaz?

- A) Yerleşim birimleri ve yol güzergahları zarar görür.
B) Tarım alanları zarar görür ve tarımda verim düşer.
C) Konutlar toprak altında kalır, can ve mal kaybı oluşur.
D) Topraklar üzerinde kuraklık meydana gelir.

7. Heyelan ve erozyonun tarım üzerindeki etkisiyle ilgili aşağıdakilerden hangisi söylenebilir?

- A) İklim şartlarının değişmesine neden olur.
B) Ekonomik kazancı yüksek ürünlerin yetiştirilmesine olanak sağlar.
C) Ekili ve dikili arazilerde verimin düşmesine neden olur.
D) Topraklar üzerinde sanayi merkezlerinin kurulmasını sağlar.